



INSTITUTO JUAN PABLO II  
Av. Sáenz Peña 576  
TEL: 0381- 4205711  
[Institutojuanpabloii@gmail.com](mailto:Institutojuanpabloii@gmail.com)  
[www.instjuanpabloii.com.ar](http://www.instjuanpabloii.com.ar)

**Materia:** Matemáticas

**Profesora:** Patricia Zelaya

**Curso:** 2° año B

**Bibliografía:** Matemática Activados 1. Editorial Puerto de Palo. Edición 2017

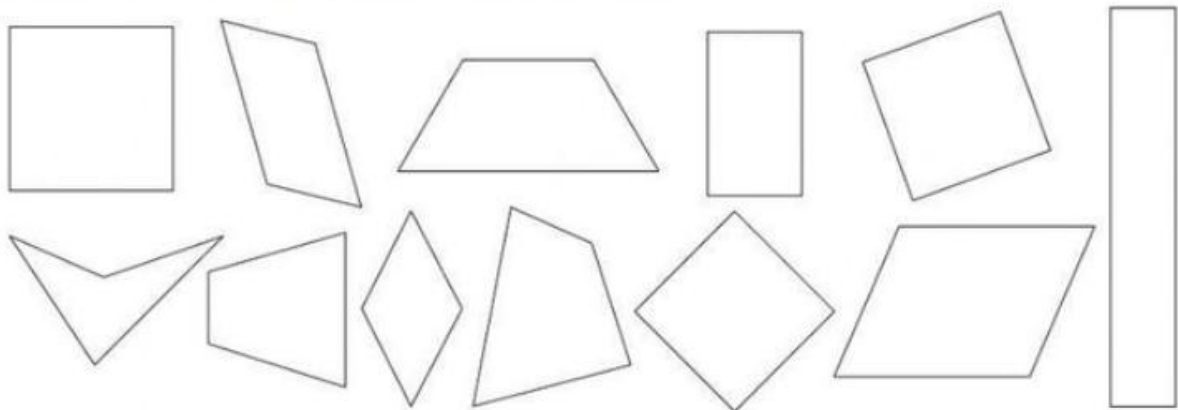
## TRABAJO PRÁCTICO N° 35

### Cuadriláteros. Elementos y propiedades

#### - CONTINUACIÓN -

#### Actividades

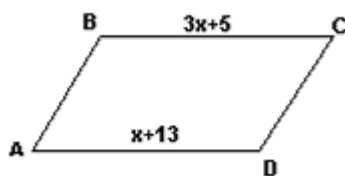
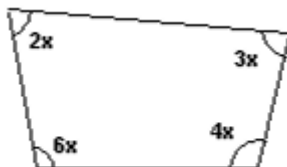
1. Escribe dentro de cada polígono los números según la clave que se indica.



1. Si es un trapezoide.
2. Si es un trapecio.
3. Si es un cuadrado.

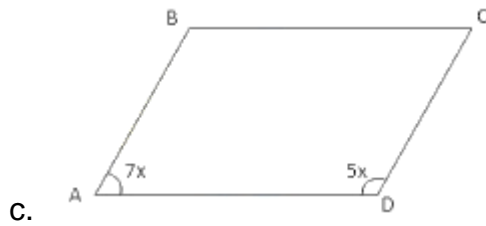
4. Si es un rombo.
5. Si es un rectángulo.
6. Si es un romboide.

2. Encuentra el valor de x:





INSTITUTO JUAN PABLO II  
Av. Sáenz Peña 576  
TEL: 0381- 4205711  
[Institutojuanpabloii@gmail.com](mailto:Institutojuanpabloii@gmail.com)  
[www.instjuanpabloii.com.ar](http://www.instjuanpabloii.com.ar)



3. Completa:

- El cuadrilátero que tiene un par de lados paralelos se llama \_\_\_\_\_.
- El cuadrilátero que no tiene lados paralelos se llama \_\_\_\_\_.
- El cuadrilátero que tiene dos pares de lados paralelos se llama \_\_\_\_\_.
- El cuadrilátero es un polígono que tiene \_\_\_\_\_ lados.