



INSTITUTO JUAN PABLO II  
Av. Sáenz Peña 576  
TEL: 0381- 4205711  
Institutojuanpabloii@gmail.com  
www.instjuanpabloii.com.ar

Materia: Matemática

Profesora: Nisoria, Carolina

Curso: 3° B

Bibliografía actual: Activados 2. Editorial Puerto de Palos. Se continuará con Activados 3 en el 2do trimestre

### Trabajo Práctico N°28. Repaso

1) Leer atentamente y resolver

Las notas obtenidas en la evaluación de Matemática de primer año son.

4; 4; 6; 7; 4; 8; 9; 5; 6; 7; 10; 4; 9; 10; 7; 5; 6; 6; 5; 4.

- ¿Cuál es la variable? ¿De qué tipo es?
- Realicen la tabla de frecuencias.
- Calculen el promedio, la moda y la mediana.
- Realicen un gráfico de barras.

2) Resolver

a. ¿Cuántos números de 4 cifras diferentes se pueden formar con los dígitos 1, 2, 3, 4?

b. Se tiran dos dados. Calcular la probabilidad de que salgan:

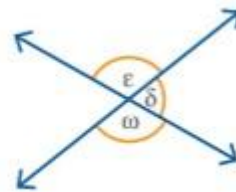
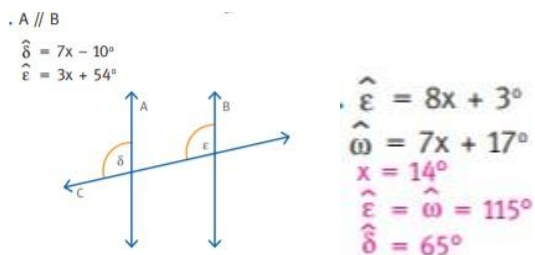
Dos números impares.

Un número menor que 9

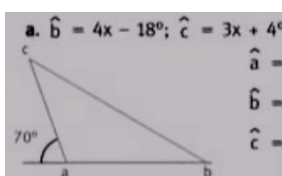
Un número mayor que 8

La suma de 6

3) Encontrar el valor de x y de los ángulos que faltan



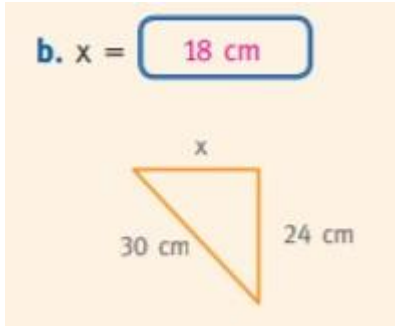
4) Encontrar el valor de los ángulos pedidos





INSTITUTO JUAN PABLO II  
Av. Sáenz Peña 576  
TEL: 0381- 4205711  
Institutojuanpabloii@gmail.com  
www.instjuanpabloii.com.ar

5) Resolver



Pág.