



INSTITUTO JUAN PABLO II  
Av. Sáenz Peña 576  
TEL: 0381- 4205711  
[Institutojuanpabloii@gmail.com](mailto:Institutojuanpabloii@gmail.com)  
[www.instjuanpabloii.com.ar](http://www.instjuanpabloii.com.ar)

**Materia:** Matemáticas

**Profesora:** Patricia Zelaya

**Curso:** 5° año "A"

**Bibliografía actual:** Matemática Activa 3. Editorial Puerto de Palo. Edición 2017

---

### Trabajo Práctico N° 53





#### Capítulo 8: Estadística

##### Gráficos

##### - CONTINUACIÓN -

#### Actividad

1. Continuamos con las actividades de T.P N° 52.
2. José tiene una juguetería y desea saber cuántos jugos de frutas vendió en el mes. Tiene todo anotado en su cuaderno en una tabla de conteo.
  - a. Completa la tabla de conteo:

Jugos	Conteo	Total
Jugo de Fresa		
Jugo Especial		
Jugo de papaya		
Jugo de piña		

- b. Realiza gráficos de barras y circular
- c. ¿Qué jugo se vendió en mayor cantidad? Y ¿en menor cantidad?
- d. ¿Cuántos jugos en total se vendieron?